

PRACOVNÍ LIST – ZEMĚPIS 6. ROČNÍK

K pracovnímu listu máte přiložený zápis nového učiva, ten si vystříhnete a nalepte do sešitu. Pomocí zápisu nového učiva pak vypracujte tento pracovní list. V zápisu najdete odpovědi na všechny otázky, které jsou v pracovním listu. Pracovní list odevzdáte ve škole 16.11.

Když si nebudete vědět rady a budete chtít něco vysvětlit, tak mi napište na email kubikova.konzultace@seznam.cz , popřípadě na messenger.

Mějte se hezky a učte se 😊

TÉMA: PLANETA ZEMĚ – GLÓBUS, ORIENTACE NA ZEMI

1. Co je to glóbus?

.....

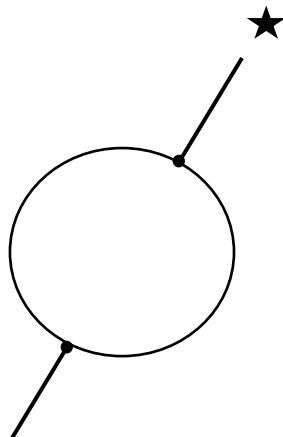
2. Jaké jsou druhy zemských glóbusů?

.....
.....

3. Kolikrát je glóbus zmenšen oproti Zemi nám ukazuje

4. Vypiš všechny pevné body, podle kterých určujeme polohu na Zemi. Tyto body pak zakresli do obrázku, který je níže.

.....
.....
.....



5. Čím je tvořena zeměpisná síť?

.....

6. Co určují:

- a. Poledníky –
- b. Rovnoběžky –

7. Jak se nazývá:

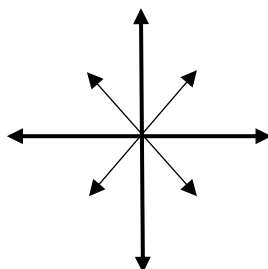
- a. Hlavní poledník –
- b. Hlavní rovnoběžka –

8. Napiš, jaké jsou hlavní a vedlejší světové strany. Zkratky názvů stran pak zapiš do obrázku světové růžice.

Hlavní světové strany –

Vedlejší světové strany –


Obrázek světové růžice:



9. Podle učebnice nebo internetu zakreslete rovník a hlavní poledník do těchto dvou obrázků, které znázorňují Zeměkouli.

- a) Do prvního obrázku vyznačte HLAVNÍ (NULTÝ) POLEDNÍK
- b) Do druhého obrázku vyznačte ROVNÍK

a) HLAVNÍ (NULTÝ) POLEDNÍK



b) ROVNÍK

